

වසඹ පළාත් අධ්‍යාපන දෙපාර්තමේන්තුව

Provincial Department of Education - NWP

දෙවන වාර පරීක්ෂණය - 10 ශ්‍රේණිය - 2019

Second Term Test - Grade 10 - 2019

නම/විභාග අංකය : පෙරදිග සංගීතය - I කාලය : පැය 01යි.

සැලකිය යුතුයි.

- (i) සියලුම ප්‍රශ්නවලට පිළිතුරු සපයන්න.
- (ii) අංක 1 සිට 40 තෙක් ප්‍රශ්නවලට, දී ඇති (1), (2), (3), (4) යන පිළිතුරුවලින් නිවැරදි හෝ වඩාත් නිවැරදි හෝ වඩාත් ගැලපෙන හෝ පිළිතුර තෝරන්න.
- (iii) ඔබට සැපයෙන පිළිතුරු පත්‍රයේ එක් එක් ප්‍රශ්නය සඳහා දී ඇති කව අතුරෙන් ඔබ තෝරාගත් පිළිතුරෙහි අංකයට ගැලපෙන කවය තුළ (5) ලකුණ යොදන්න.

01. ස්වර ගායනය එකවර සිදු කිරීමට අපහසු ආධුනිකයෙකුට භාවිත කළ හැකි ගීත විශේෂය වනුයේ,
 (1) හජන් ගී (2) මධ්‍යලය ගී (3) ස්වර ස්ථාපන ගී (4) ලක්ෂණ ගී

02. 5 5 5 / 5 5 5 / 5 5 5 / 5 5 5
 ඉහත රිද්ම රටාවට ගැයෙන ගීතයකි.
 (1) දියගොඩ සැමතැන (2) මොනවද මුත්තේ
 (3) වදිමු සුගත (4) මිහිකත නලවාලා

03. අවග්‍රහයෙන් ඇරඹෙන ගීතයක් වනුයේ,
 (1) හෙළ ජාතික අභිමානේ (2) ලංකා ලංකා
 (3) ගලන ගඟකි ජීවිතේ (4) දන්නෝ බුදුන්ගේ

04. ග රි ස ප ම / ග රි ස, නි රි ස ... මෙම ස්වර අයත් රාගය,
 (1) කාඟි (2) බිලාවල් (3) යමන් (4) හෙරවී

05. පහත ධ්වනිවේ දෙවන විභාගයට අයත් අක්ෂර වනුයේ,
 ධි නා / / ති නා / ධි ධි නා
 (1) ධි නා නා (2) ධි ධි නා (3) ති ති නා (4) ති නා

06. සර්ව කෝමළ රාගයකි.
 (1) යමන් (2) කාඟි (3) භූපාලි (4) හෙරවී

07. සංගීතයේ දී ලය ප්‍රධාන කොටස් කීය ද?
 (1) 2යි (2) 4යි (3) 3යි (4) 5යි





08. “බැතිනා සිරිපා කරුණා කරනා” ඉහත ගී පාදයේ ලඝු ගුරු අක්ෂරයන්ගේ එකතුව වන්නේ,
 (1) 12කි (2) 10කි (3) 16කි (4) 15කි

09. සිතාරයේ ප්‍රධාන තත් සංඛ්‍යාව,
 (1) 5කි (2) 4කි (3) 7කි (4) 6කි
10. ප්‍රසිද්ධ දක්ෂ එස් රාජ් වාදකයෙකි,
 (1) අමීර් කුෂරු (2) පණ්ඩිත් රවිශංකර් (3) උස්තාද් විලයාත් ඛාන් (4) පණ්ඩිත් නිකිල් බැනර්ජි
11. රාගයක යෙදෙන ස්වර අතුරින් වාදී සංවාදී ස්වර හැරුණු විට ඉතිරි ස්වර හඳුන්වන්නේ,
 (1) විවාදී ස්වර ලෙස (2) වර්ජ ස්වර ලෙස
 (3) අනුවාදී ස්වර ලෙස (4) මුඛ්‍යාංගය ලෙස
12. විදුලි ඕගනයක ලය නැතහොත් වේගය සකසා ගැනීමට භාවිතා කළ යුතු ස්විචය හඳුන්වන්නේ,
 (1) Tone (2) Tracks (3) Tempo (4) Beat
13. බොක්ස් ගීටාරයක විවෘත තත් පිළිවෙළින් නම් කිරීමේ දී
 (1) E A D G B E (2) E A G D B E (3) D A E G B E (4) A B C D E F
14. F මේජර් කෝඩ් එකට අයත් ස්වර වන්නේ,
 (1) D, F, A (2) F, A, C (3) G, B, D (4) C, E, G
15. සිංහල කණ්ඩායම් ගීයේ නිර්මාතෘවරයා වන්නේ,
 (1) ක්ලැරන්ස් විජේවර්ධන මහතා (2) බ්‍රයන් රණසිංහ මහතා
 (3) නෙවිල් ප්‍රනාන්දු මහතා (4) සී. ටී. ප්‍රනාන්දු මහතා
16. /ස ස රි රි / ග ග මධ / ප /
 මෙම ගී පාදයට අයත් හිඳුස්ථානී සහ බටහිර තාලය වන්නේ,
 (1) ජප් 5/8 (2) දීප් වන්දි 7/8 (3) බෙම්ටෝ 6/8 (4) ලාවනී 2/4
17. අපරදිග තුර්ය වාදක භාණ්ඩ ප්‍රධාන වශයෙන් කොටස් කීයකම බෙදේ ද?
 (1) 4යි (2) 2යි (3) 5යි (4) 3යි



- ඉහත බටහිර ප්‍රස්තාරය ඇසුරින් 18 සිට 20 දක්වා ප්‍රශ්නවලට පිළිතුරු සපයන්න.
18. මෙහි තාල සංකේතය හෙවත් (Time Signature) වන්නේ,
 (1) 3/4 (2) 4/4 (3) 2/4 (4) 6/8
19. "A" සංකේතයෙන් දක්වා ඇත්තේ
 (1) සෙම්බ්‍රිව් රෙස්ට් (2) ක්‍රොවට් රෙස්ට් (3) ක්වේවර් රෙස්ට් (4) මිනිම් රෙස්ට්

20. "B" සංකේතයෙන් දක්වා ඇති සංකේතය වන්නේ,
 (1) සෙම්බ්‍රව් (2) ක්‍රොවට් (3) මිනිම් (4) ක්වේවර්
21. "F" මේජර් ස්කේලයට අදාළ ස්වර වන්නේ,
 (1) ම ප ධ නි ස රි ශ ම (2) ම ප ධ නි ස රි ශ ම
 (3) ම ප ධ නි ස රි ශ ම (4) ම ප ධ නි ස රි ශ ම
22. "දැනට වළලු..." ගීතයට පාදක වූ ජන ගී විශේෂය වන්නේ,
 (1) ගොයම් ගී (2) නාඩගම් ගී (3) නෙළුම් ගී (4) වන්නම්
23. පහතරට වන්නම් සම්ප්‍රදායේ ප්‍රධාන තාල වාද්‍ය භාණ්ඩය වන්නේ,
 (1) දවුල (2) ගැටබෙරය (3) දෙවොල් බෙරය (4) තම්මැට්ටම
24. පංචතර්ය භාණ්ඩ වර්ගීකරණය අනුව උඩැක්කිය අයත් වන්නේ,
 (1) ආතත (2) සුමිර (3) විතත (4) විතතාතත
25. යමන් රාගාශ්‍රිත සරල ගීයකි.
 (1) ගුමුගුමුව වදුලේ (2) පාරමිතා බල (3) රුක් අත්තන මල (4) සාදු දන්තදා
26. හින්දුස්ථානී තාලයක් ආවර්ත දෙකක් වැයූ විට ලැබෙන මාත්‍රා ගණන 20කි. එම තාලය වන්නේ,
 (1) ජප් තාලය (2) ත්‍රිතාලය (3) ධාදරා තාලය (4) දීප් වන්දි
27. නව නාට්‍ය ගීයකි.
 (1) සුවද පත්ම (2) ලෝනා මුණි රාජගේ (3) ආලෙ බැන්ද (4) කුමටද සොබනියෙ
28. "අම්මා වරුනේ" ගීතය ගායනා කරනු ලබන්නේ,
 (1) නීලා වික්‍රමසිංහ මහත්මිය (2) මාලනී බුලත්සිංහල මහත්මිය
 (3) නන්දා මාලනී මහත්මිය (4) ලතා වල්පොළ මහත්මිය
29. තබ්ලා වාදනයක අංගයක් නොවන්නේ,
 (1) කායදා (2) පල්ටා (3) ජලා (4) තිහායි
30. "ඇසේ මදුර ජීවනයේ ගීතා ..." මෙම ගීතය රචනා කරන ලද්දේ
 (1) සුනිල් ශාන්ත මහතා (2) ආනන්ද සමරකෝන් මහතා
 (3) ඩබ්ලිව්. ඩී. අමරදේව මහතා (4) සූර්ය ශංකර් මොල්ලිගොඩ මහතා
31. සරල ගීතයක බහුලව දක්නට ඇති ආකෘතිය පිළිවෙළින් සඳහන්ව ඇත්තේ,
 (1) ස්ථායි අන්තරා පෙරවාදනය අතුරු වාදනය
 (2) පෙරවාදනය ස්ථායි අතුරු වාදනය අන්තරා
 (3) අන්තරා පෙරවාදනය ස්ථායි අතුරු වාදනය
 (4) අතුරු වාදනය ස්ථායි අන්තරා පෙරවාදනය

32. කපිරිඤ්ඤා ගීත සම්බන්ධයෙන් නිවැරදි ප්‍රකාශයක් නොවන්නේ,
 (1) සරල තනු යෙදී තිබීම
 (2) වේග රිද්ම ගායනය
 (3) මුහුදු බඩ ප්‍රදේශවල ව්‍යාප්ත වීම
 (4) "මුළු ගතම වෙහෙසුනා ...ගීතය කපිරිඤ්ඤා ආශ්‍රිතව නිර්මිතය.
33. "අටවිසිමක්" පැදියකට අයත් වන්නේ,
 (1) මනමක් කරවන
 (2) පැහැසරණිය මිණි පැමිණිය
 (3) සඳවා සුදු වැලි
 (4) රැ රැසේ අදිනා ලෙසේ
34. අනාසාතාත්මක ගැමි ගී විශේෂයකි.
 (1) ගොයම් ගී (2) කමත් ගී (3) නෙළුම් ගී (4) පාරු ගී
35. බටහිර සංගීත ප්‍රස්තාරයක යෙදෙන "Repetition Mark" ගනයට අයත් නොවන සංකේතය කුමක් ද?
 (1)  (2)  (3)  (4) 
36. මනමේ නව නාට්‍යයෙහි යෙදෙන ගීතයකි.
 (1) ලෝ පසිඳු (2) දුල් නිමල් සේ දිසි (3) ඉර සඳ දෙවියනි (4) සත් වෙත සෙත් දෙන
37. ශ්‍රී ලංකාවේ ගුවන් විදුලිය ආරම්භ වූ වර්ෂය වන්නේ,
 (1) 1918 (2) 1923 (3) 1825 (4) 1925
38. ඩබ්ලිව්. බී. මකුලොලුව මහතා අතින් නිර්මිත "හෙළ ගී මඟ" කෘතියේ සඳහන් වන්නේ,
 (1) මුද්‍රා නාට්‍ය පිළිබඳ තොරතුරු (2) රාගධාරි සංගීත තොරතුරු
 (3) ජන සංගීත සිද්ධාන්ත හා ජන ගී (4) නර්තන සම්ප්‍රදායන් පිළිබඳ තොරතුරු
39. සී. ද. එස්. කුලතිලක මහතා විසින් නිර්මාණය කරන ලද කෘතියකි.
 (1) 'අභිනව මූලික ගීත (2) "බයිලා කපිරිඤ්ඤා විමර්ශනය
 (3) ශ්‍රී ලංකාවේ සංගීතසම්භවය (4) 'උඩරට නර්තන කලාව'
40. වංග ගීත ශෛලිය නිර්මාණය කරන ලද්දේ
 (1) අමීර් බුෂරු පඬිතුමා (2) පණ්ඩිත් රවිඉංකර්
 (3) රවින්ද්‍රනාත් තාගෝර් කුමා (4) හරි ප්‍රසාද් චෝරසියා

	වයඹ පළාත් අධ්‍යාපන දෙපාර්තමේන්තුව Provincial Department of Education - NWP	<table border="1" style="margin: auto;"> <tr> <td style="padding: 5px;">40</td> <td style="padding: 5px;">S</td> <td style="padding: 5px;"></td> </tr> </table>	40	S	
40	S				

දෙවන වාර පරීක්ෂණය - 10 ශ්‍රේණිය - 2019
Second Term Test - Grade 10 - 2019

නම/විභාග අංකය : පෙරදිග සංගීතය - ප්‍රායෝගික පරීක්ෂණය

ගුරු උපදෙස්:

I පහත සඳහන් නිර්නායක පහ සඳහා සෑම අපේක්ෂකයෙකුම කේවලව ඇගයීමට ලක් කරන්න.

01. ඔබ උගත් නිර්දේශිත රාග අතරින් හෙරවී හෝ යමන් රාගයට අදාළ ව පහත සඳහන් කොටස් ගායනය හෝ වාදනය කරන්න.
 - (i) ආරෝහණ, අවරෝහණ
 - (ii) මධ්‍යලය ගීතයේ ස්ථායී කොටස
 - (iii) මධ්‍යලය ගීතයේ අන්තරා කොටස
 - (iv) රාගයට අදාළ ස්වර සංගතියක් (ලකුණු 5 5 4 = 20යි)

02. (i) නිර්දේශිත ඔබ කැමති රාගයකට අදාළව පහත සඳහන් කොටස් අතරින් කැමති කොටසක් තෝරාගෙන ගායනය හෝ වාදනය කරන්න.
 - I සර්ගම් / ලක්ෂණ ගී / ස්වර අභ්‍යාසයක් (ලකුණු 10)
 - (ii) පහත සඳහන් තාල අතරින් ගුරුවරයා නම් කරන තාලයක් අතින් තාල දමා නිරූපණය කරන්න. දාදරා, ත්‍රිතාල්, කෙහෙර්වා, කුච් තාලය, දීප් වන්දි, බෙම්ටෝ (ලකුණු 10)

03. පහත සඳහන් ගීත ඇසුරින් ඔබ කැමති ව්‍යවහාරික සංගීතාංග දෙකක් ගායනය/වාදනය කරන්න.
 - I නව නාට්‍ය, ජන ගී ආශ්‍රිත සරල ගී, කැලිප්සෝ, නූර්ති, නාඩගම්, කෝලම් ගී, රාගාශ්‍රිත සරල ගී, මවිපිය ගුණ වරුණ ගී (ගීත 2කට ලකුණු 10 5 2 = 20 යි)

04. පහත සඳහන් ජන ගී වර්ග අතරින් ඔබ කැමති "සේ ගීයක්" හා ගැමි ගීයක් ගායනය හෝ වාදනය කර දක්වන්න.
 - I ගොයම් ගී, නෙළුම් ගී, ප්‍රශස්ති, වන්නම්, කෙළි ගී, තුන් සරණේ ගී, රබන් ගී, දරු නැළවිලි (ගී වර්ග 2කට ලකුණු 10 5 2 = 20යි)

05. පහත සඳහන් ගී වර්ග අතරින් ඔබ කැමති ගී වර්ග 2ක් තෝරා ගෙන ස්වර වාද්‍ය භාණ්ඩයකින් හා ස්වර පුවරු වාද්‍ය භාණ්ඩයකින් වාදනය කරන්න.

වාදනය ප්‍රධානව ඉදිරිපත් කරන සිසුන් ස්වර වාද්‍ය භාණ්ඩයකින් ඉදිරිපත් කරන ගීතය ගායනය කරන්න.)

 - මධ්‍යලය ගී, නූර්ති ගී, සරල ගී, නව නාට්‍ය ගී, ජන ගී ආශ්‍රිත සරල ගී, රාගාශ්‍රිත සරල ගී, ළමා ගී, උපදේශාත්මක ගී (ගී වර්ග 2 ගායනය/වාදනය සඳහා 10 5 2 = 20යි)

මුළු ලකුණු 100)

වයඹ පළාත් අධ්‍යාපන දෙපාර්තමේන්තුව
Provincial Department of Education - NWP

දෙවන වාර පරීක්ෂණය - 10 ශ්‍රේණිය - 2019
Second Term Test - Grade 10 - 2019

නම/විභාග අංකය : පෙරදිග සංගීතය - II කාලය : පැය 02යි.

සැලකිය යුතුයි.

(i) පළමුවන ප්‍රශ්නය ඇතුළුව තවත් ප්‍රශ්න 04කට පිළිතුරු සපයන්න.

01.
 - (i) එක් විකෘති ස්වරයක් පමණක් යෙදෙන ඔබට නිර්දේශිත රාගය නම් කරන්න.
 - (ii) 'රාත්‍රි දෙවන' ප්‍රභාරයේ ගැයෙන නිර්දේශිත රාගයකි. නම් කරන්න.
 - (iii) මග, සර්ප, ධු නි ස" ස්වර සංගතිය අයත් නිර්දේශිත රාගය නම් කරන්න.
 - (iv) ස්වර වලින් පමණක් රචිත රාගධාරි ගීත විශේෂය කුමක් ද?
 - (v) තබ්ලා වාදනයකදී දැනම යොදා ගනිමින් වාදනය කරන තබ්ලා අක්ෂරයක් නම් කරන්න.
 - (vi) තාලයක ප්‍රබල ම ස්ථානය හඳුන්වන්නේ කුමන නමකින් ද?
 - (vii) එස් රාජයේ ප්‍රධාන තන හඳුන්වන නම කුමක් ද?
 - (viii) ජප් තාලයට සමාන දේශීය තිත නම් කරන්න.
 - (ix) බටහිරාචාරී සියලුම සිදුරු වැසූ විට නිකුත් වන ස්වරය වන්නේ,
 - (x) [[ග රි ග රි | නි රි ස]] මෙම සංකේතයෙන් අදහස් වන්නේ,
 - (xi) තානම සහිත සේ ගී විශේෂයකි. (1 5 12 = 12)
 - (xi) වයලින් පවුලේ විශාලම සාමාජිකයා නම් කරන්න.

02.
 - A ස රි ග, ප ධ ප, ග රි ස
 - B නි රි ග, ම ප ම ප
 - C ධ නි ස රි , ග රි ස
 - (i) ඉහත A B C රාග තුන පිළිවෙලින් නම් කරන්න. (ල. 03)
 - (ii) ඉහත රාග තුනෙන් ඔබ කැමති රාගයකට අයත් මධ්‍යලය ගීතයක හෝ වාදිතයක ස්ථායී කොටස තාල සංඥා සහිතව ගීත ස්වර ප්‍රස්ථාර කරන්න. (ල. 05)
 - (iii) A රාගයේ මේලය, ජාතිය, වාදී, සංවාදී ස්වර නම් කරන්න. (ල. 04)

03.
 - (i) මාත්‍රා 16ක නිර්දේශිත හින්දුස්ථානී තාලය නියමිත තාල සංඥා සහිත ව ප්‍රස්ථාර කරන්න. (ල. 04)
 - (ii) එයට සමාන දේශීය තිත නම්කර නියමිත තාල සංඥා සහිත ව ප්‍රස්ථාර කරන්න. (ල. 04)
 - (iii) සෙවන සදනා සුවය ගෙනෙනා රකිමු සැමදා දෙරණ නිතිනා මෙම ගී පාද දෙක ගැලපෙන තාල රූපයකට අනුව පද ප්‍රස්ථාර කරන්න. (ල. 04)

04.
 - (i) හින්දුස්ථානී සංගීතයේ ප්‍රධාන තාල වාද්‍ය භාණ්ඩය නම් කර, එහි දළ රූප සටහනක් ඇඳ කොටස් හතරක් නම් කරන්න. (ල. 05)
 - (ii) තබ්ලාවේ මුහුණත් දෙකෙහි දළ රූප රාමු ඇඳ පහත සඳහන් අක්ෂර උපදින ස්ථානය ලකුණු කර දක්වන්න. (ල. 05)
 (න, නි, ගෙ, ක)

(iii) භාරතයේ සුප්‍රසිද්ධ තබ්ලා වාදකයින් දෙදෙනෙක් නම් කරන්න.

(ල. 02)

05.



(i) ඉහත දක්වා ඇති බටහිර ස්වර ප්‍රස්ථාරය පෙරදිග ක්‍රමයට ලියා දක්වන්න.

(ල. 04)

(ii) එම ස්වර ප්‍රස්ථාරය මධ්‍යම භාවයෙන් ලියා දක්වන්න.

(ල. 04)

(iii) Tie Mark

Rest Mark

Flat Mark

ඉහත මාතෘකා තුනෙන් දෙකක් කෙටියෙන් පැහැදිලි කරන්න.

(ල. 2 5 2 = 04)

06.

(i) ජන ගී වර්ගීකරණය යටතේ ගැමි ගී වර්ග කර ඇති ප්‍රධාන කොටස් ගණන කීයද? එම කොටස් නම් කරන්න.

(ල. 04)

(ii) පහත දක්වා ඇති ගැමි ගී එම වර්ග කිරීම යටතේ බෙදා වෙන්කර දක්වන්න.

| මලේ මලේ ඔය නාමල ...

| අතට වෙරළ ඇහිද ගෙනේ

| දඩබ්බි ගගා කරනා වැඩ ...

| සීත ගඟුලෙදී ඇඳ පේවෙනවා...

| දොඩම් කපාලා ඇඹුල් තනාලා

| සම්මා සම්බුදු වෙන මුණු රජුනේ...

(ල. 06)

(iii) සේ ගී වල ලක්ෂණ දෙකක් සඳහන් කරන්න.

(ල. 02)

07.

පහත සඳහන් මාතෘකා අතුරින් තුනක් තෝරා කෙටි සටහන් ලියන්න.

| ආනන්ද සමරකෝන් මහතා

| ඩබ්ලිව්. ඩී. මකුලොලුව මහතා

| සුනිල් ශාන්ත මහතා

| සී ද එස් කුලතිලක මහතා

එහිදී,

| ජීවන තොරතුරු

| සංගීත කලාව උදෙසා කරන ලද සේවාවන් පිළිබඳ විස්තර කරන්න.

(ල. 3 5 4 = 12)


 Provincial Department of Education වයඹ පළාත් අධ්‍යාපන දෙපාර්තමේන්තුව
 Provincial Department of Education වයඹ පළාත් අධ්‍යාපන දෙපාර්තමේන්තුව
 Provincial Department of Education වයඹ පළාත් අධ්‍යාපන දෙපාර්තමේන්තුව
 Provincial Department of Education වයඹ පළාත් අධ්‍යාපන දෙපාර්තමේන්තුව
 Provincial Department of Education වයඹ පළාත් අධ්‍යාපන දෙපාර්තමේන්තුව
 Provincial Department of Education වයඹ පළාත් අධ්‍යාපන දෙපාර්තමේන්තුව
 Provincial Department of Education වයඹ පළාත් අධ්‍යාපන දෙපාර්තමේන්තුව
 Provincial Department of Education වයඹ පළාත් අධ්‍යාපන දෙපාර්තමේන්තුව

40 S I - II

වයඹ පළාත් අධ්‍යාපන දෙපාර්තමේන්තුව
Provincial Department of Education - NWP

දෙවන වාර පරීක්ෂණය - 10 ශ්‍රේණිය - 2019
Second Term Test - Grade 10 - 2019

පෙරදිග සංගීතය - පිළිතුරු පත්‍රය

I කොටස

- | | | | |
|---------|---------|---------|---------|
| 1. (3) | 11. (3) | 21. (1) | 31. (2) |
| 2. (3) | 12. (3) | 22. (3) | 32. (4) |
| 3. (4) | 13. (1) | 23. (3) | 33. (4) |
| 4. (3) | 14. (2) | 24. (1) | 34. (4) |
| 5. (2) | 15. (3) | 25. (4) | 35. (1) |
| 6. (4) | 16. (3) | 26. (1) | 36. (3) |
| 7. (3) | 17. (4) | 27. (4) | 37. (4) |
| 8. (3) | 18. (1) | 28. (3) | 38. (3) |
| 9. (3) | 19. (4) | 29. (3) | 39. (3) |
| 10. (4) | 20. (2) | 30. (2) | 40. (3) |
- මුළු ලකුණු 40

II කොටස

01. (i) යමන් රාගය (ii) කාලි රාගය (iii) හෙරවි රාගය
 (iv) සර්ගම් (v) ධා, ධං (vi) සම්/සමග්‍රහය
 (vii) 'බජ්කාතාර්' ලෙසින් (viii) සුලු මැදුම් දෙතින (ix) 'ප' ස්වරය
 (x) මෙම ස්වර කොටස නැවත වරක් මුල සිට වාදනය කරන්න. (xi) වන්නම්
 (xii) ඩබල් බේස් (ල. 1 5 12 = 12)
02. (i) A භූපාලි රාගය (iii) තබ්ලාවාදකයින් දෙදෙනෙක් නම්කර ඇත්නම් (ල. 02)
 B යමන් රාගය
 C හෙරවි රාගය (ල. 03)
 (ii) මධ්‍යලය ගීතයන් හෝ වාදිතයක් තාල සංඥා සහිතව ප්‍රස්තාර කිරීමට (ල. 05)
 තාල සංඥා යොදා නොමැතිනම් (ල. 01)
 අඩුවේ.
 (iii) නිවැරදිව ලියා ඇත්නම් (ල. 1 5 4 = 4)
03. (i) ත්‍රිතාලය (ල. 04)
 (ii) මහනනි තිත (ල. 04)
 (iii)
- | | | | | | | | | | | | | | |
|----|----|----|----|---|----|---|----|---|----|----|----|----|----|
| 1 | 2 | 3 | 4 | 5 | 6 | 7 | 8 | 9 | 10 | 11 | 12 | 13 | 14 |
| සෙ | ව | න | ස | ඳ | නා | S | සු | ව | ය | ගෙ | නෙ | නා | S |
| ර | කි | මු | සා | ම | දා | S | දෙ | ර | ණ | නි | ති | නා | S |
- (ල. 04)
04. (i) තබ්ලාව (ල. 01)
 කොටස් 04නම් කිරීමට (ල. 04)
 (ii) තබ්ලා මුහුණත් දෙකෙහි අක්ෂර ලකුණු කිරීමට
 (1) මුහුණත් ඇදීමට (ල. 01)
 (2) ලකුණු කිරීමට (ල. 04) (ල. 05)
05. (i) | ග ම ප | ග රි ස | ස | ස | (ල. 04)
 (ii) | ධ නි 'ස | ධ ප ම | ම | ම | (ල. 04)
 (iii) එක් මාතෘකාවක් සඳහා (ල. 02)
 මාතෘකා දෙකක් පැහැදිලි කිරීමට මුළු ලකුණු (ල. 04)
06. (i) 3යි (ල. 01)
 (ii) I වෘත්තීන් මත ගොඩ නැගුණු ගී මෙහෙ ගී
 I ඇදහිලි හා විශ්වාස මත ගොඩ නැගුණු ගී ඇදහිලි ගී
 I විනෝදාස්වාදය හා සමාජ අවශ්‍යතා සමාජ ගී
 (එක් වර්ගීකරණයක නමක් නම්කර තිබීම ප්‍රමාණවත්ය. (ල. 03)
 මෙහෙ ගී මලේ මලේ..., දඩි බිඩි ගගා ...
 ඇදහිලි ගී සීත ගඟලෙදි, සම්මා සම්බුදු ...
 සමාජ ගී අතට වෙරළ..., දොඩම් කපාලා ... (ල. 1 5 6 = 6)
- (iii) නිවැරදි කරුණු සඳහා (ල. 02)
07. කරුණු නිවැරදිව සඳහන් කර ඇත්නම් එක් මාතෘකාවකට ලකුණු 04 බැගින් ලබා දෙන්න. (ල. 3 5 4 = 12)