


13. How many semitones are there between C to E sharp?
 (1) 2 (2) 3 (3) 4 (4) 5
14. In which of the following keys would a minor scale has „B„ as its leading note?
 (1) C# (2) C (3) D (4) B



11. Which two notes are of the same pitch?
 (1) Transposition (2) Coda (3) Inversion (4) Accidental
10. When the root note is not in the Bass of a triad, it is called
 (1) English Horn (2) Oboe (3) Bassoon (4) Violin
09. Which of the following is a tuning instrument of the orchestra?
 (1) 3 (2) 8 (3) 4 (4) 8
08. The time signature for compound triple dotted crotchet rests would be?
 (1) 3/8 (2) 9/8 (3) 6/8 (4) 9/16
07. Which of the following symbol uses for Flat in Oriental notation?
 (1) Bassoon (2) Trombone (3) French Horn (4) Oboe
06. Which instrument is known as the clown of the orchestra?
 (1) Binary (2) Rondo (3) Sonata (4) Ternary
05. Which of the following form is also known as ABA form?
 (1) Violin (2) Cello (3) Piano (4) Bassoon
04. What instrument did Bartolomeo Cristofori invent?
 (1) C minor (2) E minor (3) B minor (4) F minor
03. The relative minor of E flat major?
 (1) E major (2) A major (3) B major (4) F sharp major
02. Which of the following scale has 2 sharps



01. Which of the following is the longest note?

1. Underline the correct answer.
 1. Answer all questions on this paper itself.

Part I

Name/Index No:.....	Western Music	Time:- 02 hours
2017 අප්‍රේල් 9 - සඳුදා - 2017 Second Term Test - Grade 9 - 2017		
Provincial Department of Education - I.M.B.		
සියලුම අයිතිවාසිකම් ඇතුළත් වී ඇත. All Rights Reserved		

(iv) How would you describe the interval marked with Δ |

(iii) What does $\text{♩} = 100$ mean?

(ii) Write 3 dynamics appear in the piece.

Relative minor:

Key:

(i) Name the key and the relative minor of the above piece?

(g)

Q1. Read the given musical score and answer the following questions.

Answer question No (01) and two others.

Part II

(3) Clef, Time signature, Key signature, Note (4) Clef, key signature, Time signature, Notes

(1) Key signature, Notes, Clef, Time signature (5) Clef, key signature, Notes, Time signature

30. Which of these is the correct order in a musical score?

(1) (5) (3) (4)
 (Handwritten annotations: 'S' under (1), 'M' under (5), 'A' under (3), 'sp' under (4))

19. Which of the following ornament is played with 3 notes.

(1) Onchihwarana (5) Mere gee (3) Darn pelawilli (4) Zarala gee

18. Which of the following is the odd one out.

(1) Triplet (5) Duplet (3) Trio (4) Septolet

17. Which name is suit for this irregular note group.

(1) 4 (5) 3 (3) 2 (4) 1



16. How many tiny bones are there in the middle ear?

(1) Franz (5) Frederic (3) Robert (4) Hector

12. Which of the following is the first name of schumann.

(1) Baroque period (5) Classical period (3) Romantic period (4) Modern Period

14. Which of the following period the composer put their own feelings and thoughts in to music?

(v) Explain "Minuet"

(5 marks)


(b) complete the following sentences.

- (i) Kettle drum and xylophone are both instrument.
- (ii) A march is in duple rhythm and a is in tripele rhythm.
- (iii) The opposite of Rallentando is
- (iv) Name the drums used for following types.
 - (a) Rituals
 - (b) Vannam
- (v) The number of preludes and fugues written by J. S. Bach.....

(5 marks)

02. (a) Write the following scales as required.


(i) One octave ascending of the E major scale, in minims with accidentals. use G clef



(3 marks)

(ii) D harmonic minor descending in crotchets prefix the key signature.

(3 marks)



(b) Write a note in a suitable value where the occurs according to the letter name given. (2 marks)

(i)

A flat above the staff C below the staff

(c) Write the required notes in the given major and Minor keys.

(2 marks)

(i) Minor (ii) Major

Dominant Leading note

03. Transpose the following passage

(a) One octave lower

(b) One octave higher in to the clefs given.

(3 marks)

(b) Write the following ornaments in full.

(3 marks)

.....
 (ii) Name 3 brass instruments (1\2 marks)

.....
 (d) (i) Name two transposing instruments (1\2 marks)

4)	Wagner		
3)	Chopin		
5)	Mozart		
1)	Beethoven		
	Nationality	A Composition	

(1\2 x 8 = 4 marks)

(c) Fill the following grid according to the instructions below.

triad, root position B major triad	triad, first inversion E sharp minor
---------------------------------------	---

(p) Write the required triads as indicated (with key signature) (5 marks)

(1\2 x 6 = 3 marks)

(q) Name the following intervals and write their inversions.


(e) Name 3 pop singers
 3
 1 (1 mark)

(d) Convert the following melody into western notation (5 marks) (5 marks)

(1 mark)

(Episode, Principle I, Principle II)
 (c) Fill the following boxes in correct order by the given words

Dominant Leading note



(c) (5 marks)

(p) (3 marks)



(ii) (3 marks)



(a) ♯8 (2 marks)
Λανταν - Cετερειας
ειγλα

(i) Βιτωλια - Λακ Ρετγλα Cεταρ

(ii) Accelerando

(iii) Waltz Minuet

(p) (i) Definite bicch percussion (2 marks)

(a) Minuet is in simple triple time

(i) Minor 3rd

(iii) 100 strokes in a minute

(ii) B, m, m
Relative minor - D minor

01 (a) (i) key - E major

Trombone, trpa cornet (5 marks)
(ii) Trumpet, French Horn (15 marks)
Cor - anglais, Double Bassoon (15 marks)

q) (i) Clarinet, Trumpet
4. German - " (4 marks)
3. Polish - "
5. Austrian - "

c) I. German - any work



p) (i) (ii) (5 marks)
(3 marks)

(iii) Aug 2nd Dim ♯

(ii) Diminished 2nd Aug ♯

(i) Major 6th Minor 3rd

04 (a) Interval Inversion

(e) Madonna, white neck, Eric Clayton (1 mark)

(d) (5 marks)
(1 mark)



(p) (3 marks)
(3 marks)



03 (a) (12 50)

02. ♯	10. 3	12. 3	50. ♯
04. 3	06. 5	14. 3	16. 5
03. 1	08. 5	13. ♯	18. ♯
05. 3	01. ♯	15. 5	17. 1
01. 1	09. 1	11. 5	19. 5

part - I

WESTERN MUSIC - ANSWER SHEET

ආසියාතික මධ්‍යම කඳවුර - 2 වන වර්ෂය - 2017

WESTERN MUSIC TEST - PART - I - 2017

ශ්‍රී ලංකා ප්‍රජාතාන්ත්‍රික සමාජවාදී ජනරජයේ ප්‍රාදේශීය අධ්‍යාපන දෙපාර්තමේන්තුව
ශ්‍රී ලංකා ප්‍රජාතාන්ත්‍රික සමාජවාදී ජනරජයේ ප්‍රාදේශීය අධ්‍යාපන දෙපාර්තමේන්තුව
ශ්‍රී ලංකා ප්‍රජාතාන්ත්‍රික සමාජවාදී ජනරජයේ ප්‍රාදේශීය අධ්‍යාපන දෙපාර්තමේන්තුව
ශ්‍රී ලංකා ප්‍රජාතාන්ත්‍රික සමාජවාදී ජනරජයේ ප්‍රාදේශීය අධ්‍යාපන දෙපාර්තමේන්තුව
ශ්‍රී ලංකා ප්‍රජාතාන්ත්‍රික සමාජවාදී ජනරජයේ ප්‍රාදේශීය අධ්‍යාපන දෙපාර්තමේන්තුව
ශ්‍රී ලංකා ප්‍රජාතාන්ත්‍රික සමාජවාදී ජනරජයේ ප්‍රාදේශීය අධ්‍යාපන දෙපාර්තමේන්තුව



(10 marks)

02. Class or set to the given rhythm:

04. Play piano piece (piano piece) with expression

(10 marks)

- (p) D minor
- (g) C major

(10 marks)

03. Play any melody on Recorder or any scale of the following

05. Play the scales of C major and A minor (one octave) hands separately

(10 marks)

(correct pitch, rhythm, presentation)

(10 marks)

01. Write any song given in the syllabus

Practical Test

Western Music

දෙවන වර පරීක්ෂණ - 2 වැනි වර්ෂය - 2017

2nd Term Test - Grade 2 - 2017

ශ්‍රී ලංකා ප්‍රජාතාන්ත්‍රික සමාජවාදී ජනරජයේ ප්‍රාදේශීය අධ්‍යාපන දෙපාර්තමේන්තුව
 ශ්‍රී ලංකා ප්‍රජාතාන්ත්‍රික සමාජවාදී ජනරජයේ ප්‍රාදේශීය අධ්‍යාපන දෙපාර්තමේන්තුව
 ශ්‍රී ලංකා ප්‍රජාතාන්ත්‍රික සමාජවාදී ජනරජයේ ප්‍රාදේශීය අධ්‍යාපන දෙපාර්තමේන්තුව
 ශ්‍රී ලංකා ප්‍රජාතාන්ත්‍රික සමාජවාදී ජනරජයේ ප්‍රාදේශීය අධ්‍යාපන දෙපාර්තමේන්තුව
 ශ්‍රී ලංකා ප්‍රජාතාන්ත්‍රික සමාජවාදී ජනරජයේ ප්‍රාදේශීය අධ්‍යාපන දෙපාර්තමේන්තුව
 ශ්‍රී ලංකා ප්‍රජාතාන්ත්‍රික සමාජවාදී ජනරජයේ ප්‍රාදේශීය අධ්‍යාපන දෙපාර්තමේන්තුව
 ශ්‍රී ලංකා ප්‍රජාතාන්ත්‍රික සමාජවාදී ජනරජයේ ප්‍රාදේශීය අධ්‍යාපන දෙපාර්තමේන්තුව
 ශ්‍රී ලංකා ප්‍රජාතාන්ත්‍රික සමාජවාදී ජනරජයේ ප්‍රාදේශීය අධ්‍යාපන දෙපාර්තමේන්තුව
 ශ්‍රී ලංකා ප්‍රජාතාන්ත්‍රික සමාජවාදී ජනරජයේ ප්‍රාදේශීය අධ්‍යාපන දෙපාර්තමේන්තුව
 ශ්‍රී ලංකා ප්‍රජාතාන්ත්‍රික සමාජවාදී ජනරජයේ ප්‍රාදේශීය අධ්‍යාපන දෙපාර්තමේන්තුව

